




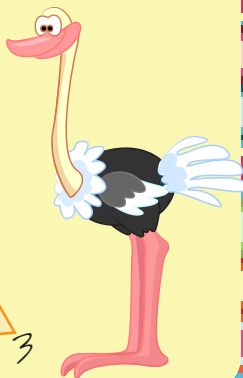
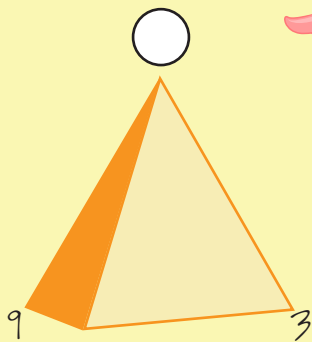
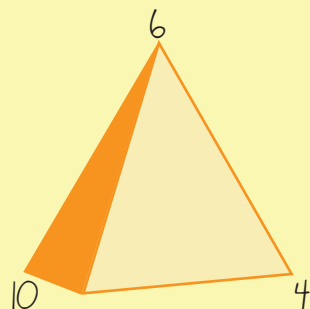
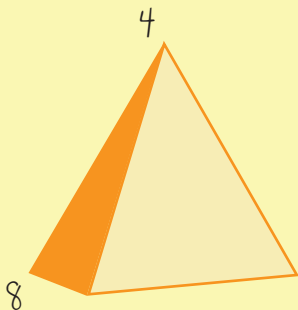
2

Ce număr trebuie să fie în mijlocul fiecărei stelute?
Privește cu atenție prima stelută și descoperă regula!



4


Ce număr trebuie scris în vârful ultimei piramide?



6

Completează pătratul cu cifre, astfel încât operațiile să fie corecte.



	+	4	=	6
+		+		+
	+		=	
=		=		=
	+	7	=	10



7

Completează careul cu cifre de la 1 la 9, în așa fel încât suma pe fiecare linie, coloană și diagonală să fie 15. Nicio cifră nu trebuie să se repete în careul!

		8